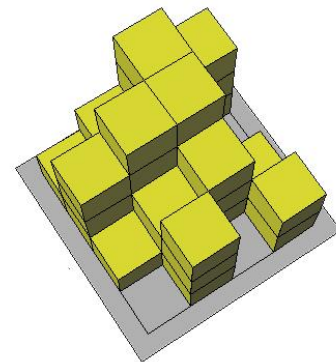
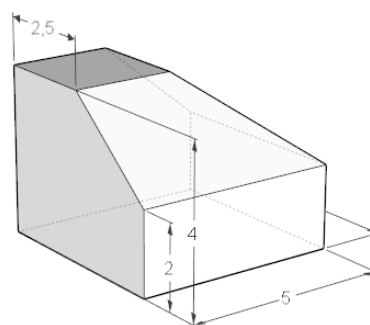
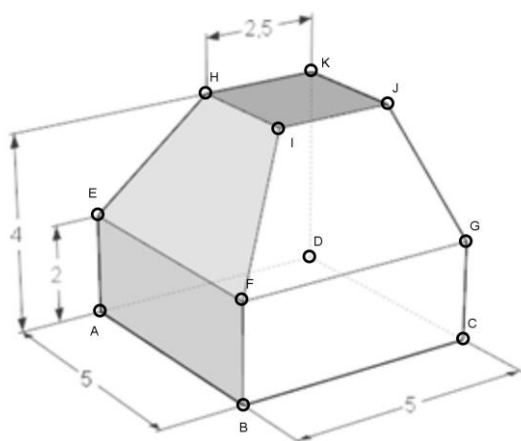


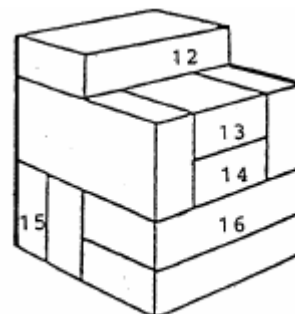
Exercice 1 : Combien y a-t-il de cubes dans cette figure ?



Exercice 2 : Développer l'objet ci-dessous (à droite une autre vue de cet objet) :



Exercice 3 : Voici une pile de briques. Toutes les briques ont la même forme et la même grandeur. Combien de brique(s) touche chacune des briques numérotées ?



12 : 13 : 14 : 15 : 16 :

Exercice 4 : Placer correctement les différentes vues (a, b, c, d, e, ...) sur les volumes (17, 18, ...)

